



Yvelines sur Seine

Questionnaire école



Une exposition réalisée par
ARCHIVES DES YVELINES
Service éducatif et culturel
archives.yvelines.fr



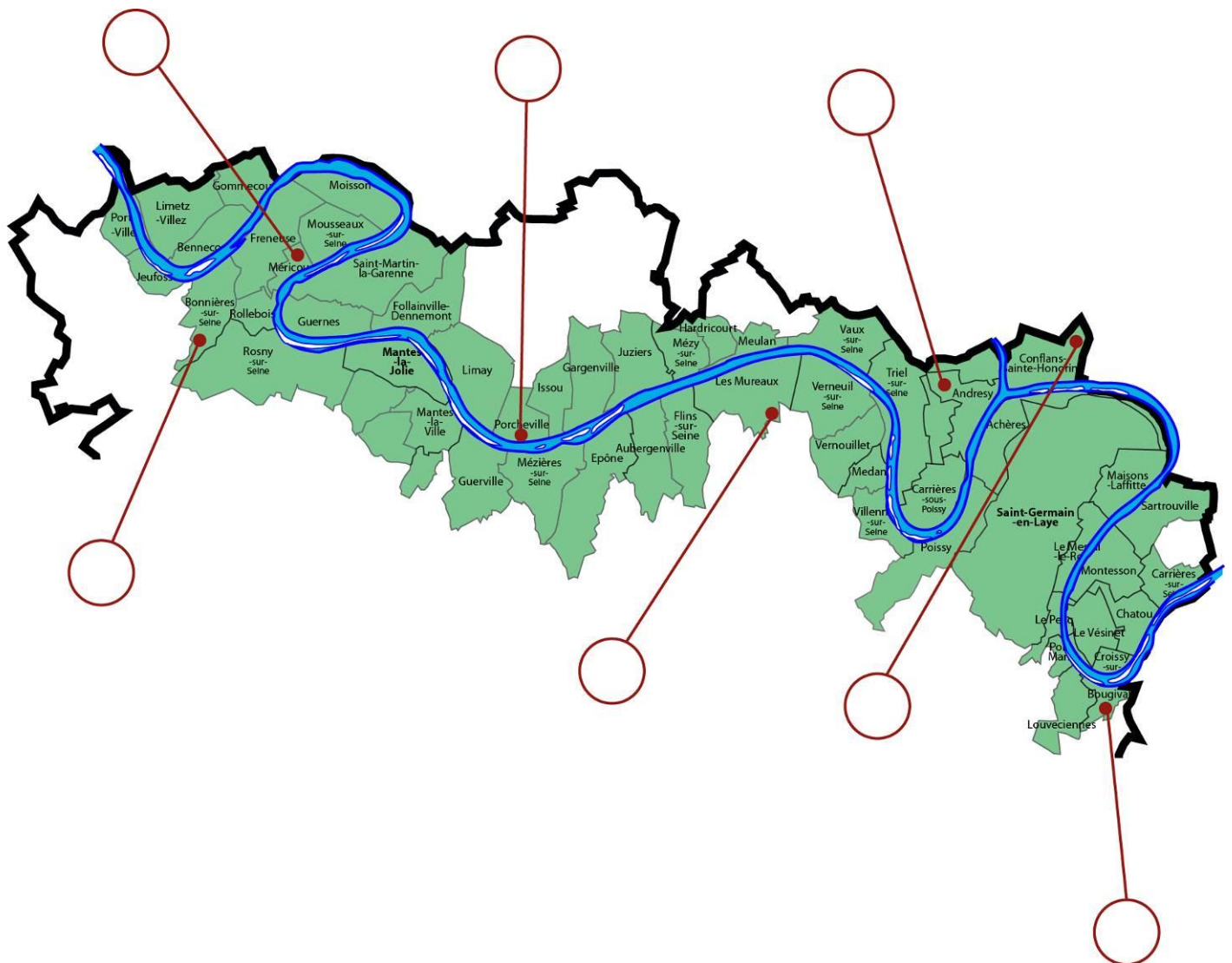
Yvelines
Conseil général



1 la Seine dans son environnement

1/ Replace les numéros dans les cases correspondant aux définitions en t'aidant du document 3 sur les panneaux et de la page 2 de ce livret

- 1) **méandre** : sinuosité, courbe d'un cours d'eau
- 2) **affluent** : cours d'eau se jetant dans un autre
- 3) **chemin de halage** : chemin qui longe le fleuve pour remorquer les bateaux
- 4) **île** : terre entourée d'eau
- 5) **barrage-écluse** : barrage servant à lâcher ou retenir l'eau
- 6) **côteau** : espace en pente
- 7) **amarrage des bateaux** : maintien d'un navire à quai avec des cordages





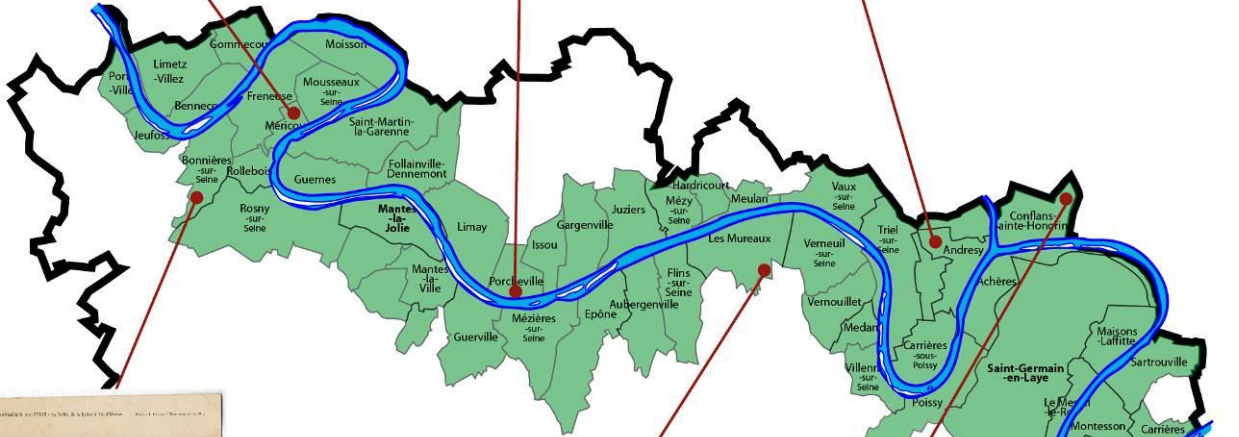
La rive droite de la Seine est marquée par des côteaux mis en valeur par l'agriculture. Archives des Yvelines, 3FI 88 /10



Le barrage-écluse de Méricourt entre la rive gauche et l'île de la Sablonnière, modernisé en 1965. Archives des Yvelines, 3FI 11



Les bords de Seine ont été aménagés pour l'amarrage des bateaux. Archives des Yvelines, 3FI 8 /19



La Grande Ile à Bonnières, photographiée depuis Jeufosse. Plusieurs îles parsèment les méandres de la Seine. Archives des Yvelines, 3FI 33 /60



Plusieurs affluents tels l'Oise ou la Mauldre se jettent dans la Seine, sur son parcours yvelinois. Archives des Yvelines, 3FI 64 /27



Au XIXème siècle, la Seine était bordée par des chemins de halage propices à la promenade. Archives des Yvelines, 3FI 173 / 23



L'île de la Chaussée (ou île de la Grenouillère) fut un haut lieu de l'impressionnisme. Elle est encore habitée de nos jours. Archives des Yvelines, 4FI 294

2/ Relie les villes aux blasons correspondants grâce au document 7 :




•

• Limay



•

• Le Pecq



•

• Poissy



•

• Les Mureaux



•

• Issou



•

• Guernes

3/ Cite les éléments que tu peux voir sur les blasons qui rappellent la Seine :

5 Passagers et marchandises naviguer, transporter

1/ Observe le document 19. Que font les chevaux et pourquoi ?

6 Circuler chemins de fer et routes de la vallée de la Seine

2/ Cite 3 moyens de transport qui permettent de circuler dans la vallée de la Seine :

7 Creuser, niveler, contenir le fleuve maîtrisé

3/ Pourquoi construire des barrages et des écluses sur la Seine ? Coche les bonnes réponses (plusieurs réponses sont possibles).

- Pour traverser la Seine
- Pour éviter que le fleuve ne déborde
- Pour décorer la Seine
- Pour réguler le cours du fleuve (faire en sorte que le courant soit régulier)

9

la Seine nourricière

1/ Quelles activités pouvait-on trouver le long de la Seine ?

2/ Relie chaque photo à l'activité qui lui correspond :



•

- Les usines Singer à Bonnières-sur-Seine (fabrique de machines à coudre)



•

- Papeterie Braunstein à Gassicourt



•

- Chantiers et cercle de la voile à Meulan



•

- Centrale EDF à Porcheville



•

- Cimenterie de Gargenville



•

- Usines Renault à Flins-sur-Seine

Baignade et canotage

12

1/ Quels loisirs peut-on pratiquer au bord de la Seine ?

2/ Colorie l'image de l'article du journal *Le Monde illustré* de 1869



LA SEINE EN PERSPECTIVE

14 Espace menacé, espace protégé

1/ Pourquoi certains sites autour de la Seine sont-ils classés avec le sigle Z.N.I.E.F.F. ? Réfère-toi au texte du panneau.

15 Faciliter les échanges

2/ Observe le document 58. Qu'est-ce que le bac permet de faire ? _____

16 Répondre aux enjeux contemporains

3/ En t'aidant du document 63, définis ce qu'est un « eco-quartier » : _____
